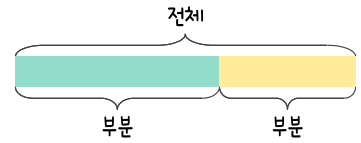
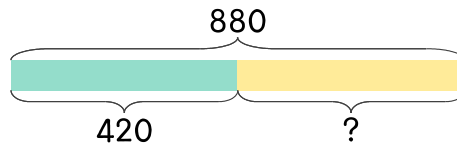


문제를 읽고 알맞은 덧셈식이나 뺄셈식을 세워 답을 구하세요.

부분과 전체를 생각하며 해결해 보세요.



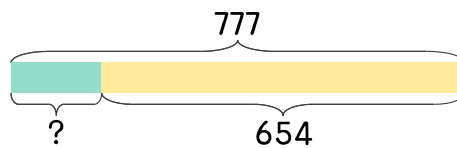
7 420과 어떤 수의 합은 880입니다. 어떤 수는 얼마인가요?



식 _____

답 _____

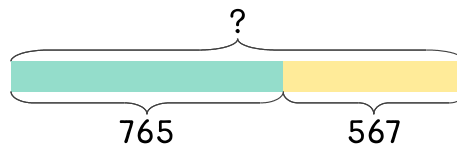
8 어떤 수와 654의 합은 777입니다. 어떤 수는 얼마인가요?



식 _____

답 _____

9 765와 567의 합은 얼마인가요?



식 _____

답 _____

