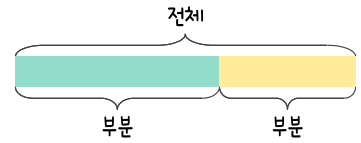
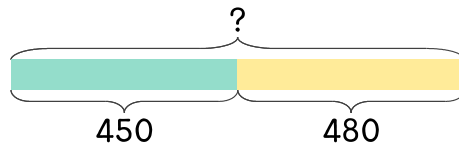


문제를 읽고 알맞은 덧셈식이나 뺄셈식을 세워 답을 구하세요.

부분과 전체를 생각하며 해결해 보세요.



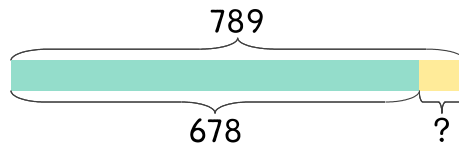
- 10 만두 가게에서 김치만두 450개와 고기만두 480개를 만들었습니다. 김치만두와 고기만두를 합하면 몇 개인가요?



식

답

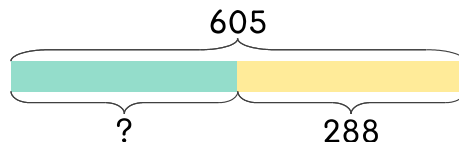
- 11 만두 가게에서 고기만두와 새우만두를 합해서 789개를 만들었습니다. 그중에서 고기만두가 678개이면 새우만두는 몇 개인가요?



식

답

- 12 만두 가게에서 왕만두와 야채만두를 합해서 605개를 만들었습니다. 그중에서 야채만두가 288개이면 왕만두는 몇 개인가요?



식

답

