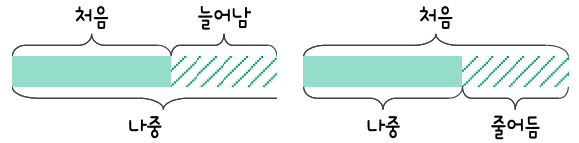
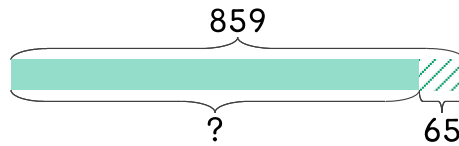


문제를 읽고 알맞은 덧셈식이나 뺄셈식을 세워 답을 구하세요.

**처음**과 **나중**를 생각하며 해결해 보세요.

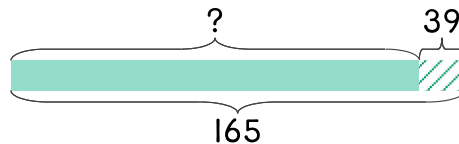


- 4 지수네 학교의 학생 수는 작년에 859명이었는데 올해는 작년보다 65명 줄었습니다. 올해 학생 수는 몇 명인가요?



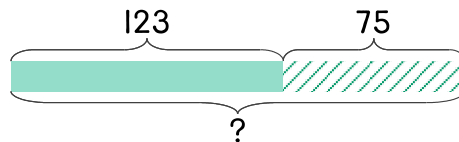
식  $859 - 65 = 794$       답  $794$ 명

- 5 지수네 학교의 올해 3학년 학생 수는 작년보다 39명 늘어난 165명입니다. 작년 3학년 학생 수는 몇 명인가요?



식 \_\_\_\_\_      답 \_\_\_\_\_

- 6 지수네 학교에 나무가 123그루 있는데 75그루를 더 심었습니다. 나무는 모두 몇 그루가 되었나요?



식 \_\_\_\_\_      답 \_\_\_\_\_

