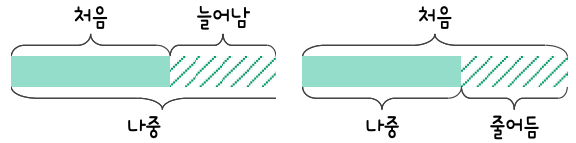
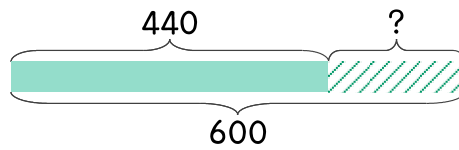


문제를 읽고 알맞은 덧셈식이나 뺄셈식을 세워 답을 구하세요.

**처음**과 **나중**을 생각하며 해결해 보세요.



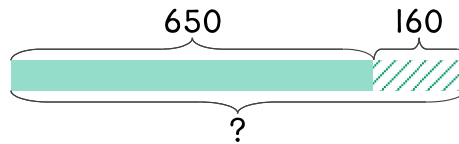
- 7 현지가 좋아하는 과자값이 작년에 440원이었는데 올해 600원이 되었습니다. 과자값이 얼마 올랐나요?



식 \_\_\_\_\_

답 \_\_\_\_\_

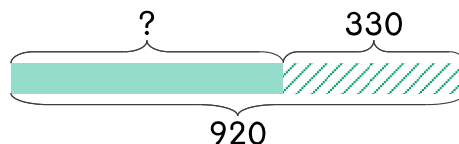
- 8 윤호가 좋아하는 과자값이 작년에 650원이었는데 올해 160원이 올랐습니다. 과자값은 얼마가 되었나요?



식 \_\_\_\_\_

답 \_\_\_\_\_

- 9 저희가 좋아하는 과자값이 작년보다 330원 올라서 올해는 920원이 되었습니다. 작년에는 과자값이 얼마였나요?



식 \_\_\_\_\_

답 \_\_\_\_\_

