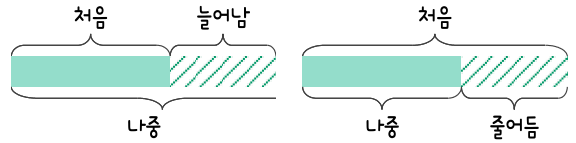
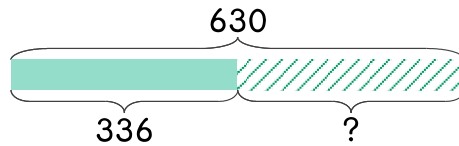


문제를 읽고 알맞은 덧셈식이나 뺄셈식을 세워 답을 구하세요.

처음과 **나중**을 생각하며 해결해 보세요.



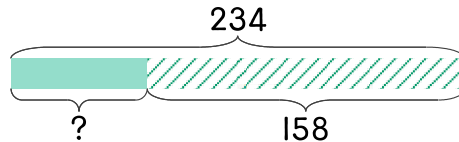
- 10** 창고에 생선이 630마리 있었는데 몇 마리를 팔고 나니 336마리가 되었습니다. 판 생선은 몇 마리인가요?



식 _____

답 _____

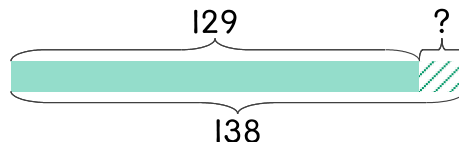
- 11** 과일가게에 포도가 234상자 있었는데 158상자를 팔았습니다. 남은 포도는 몇 상자인가요?



식 _____

답 _____

- 12** 미혜의 키는 작년에 129cm이었는데 올해 138cm가 되었습니다. 미혜는 몇 cm가 컸나요?



식 _____

답 _____

