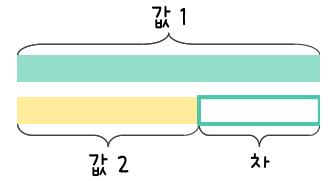
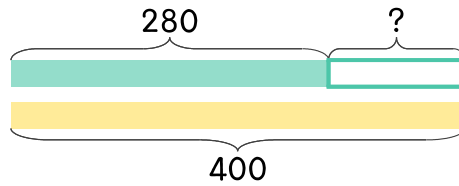


문제를 읽고 알맞은 덧셈식이나 뺄셈식을 세워 답을 구하세요.

두 수의 크기를 비교하여 해결해 보세요.



1 280과 400의 차는 얼마인가요?



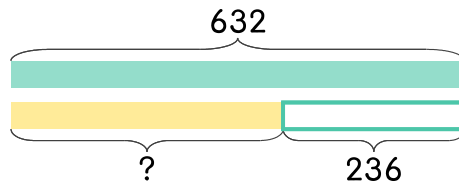
식

$$400 - 280 = 120$$

답

120

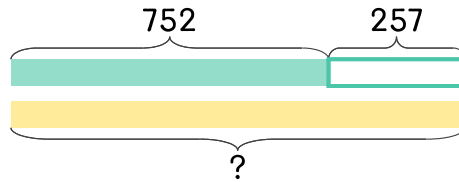
2 632보다 236 더 작은 수는 얼마인가요?



식

답

3 752보다 257 더 큰 수는 얼마인가요?



식

답

