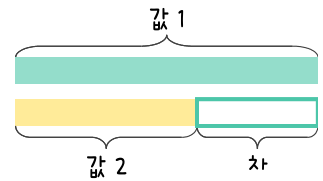
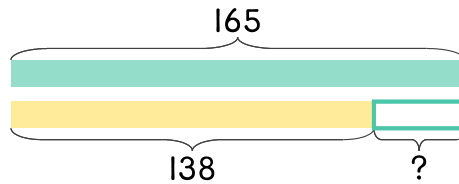


문제를 읽고 알맞은 덧셈식이나 뺄셈식을 세워 답을 구하세요.

두 수의 크기를 비교하여 해결해 보세요.

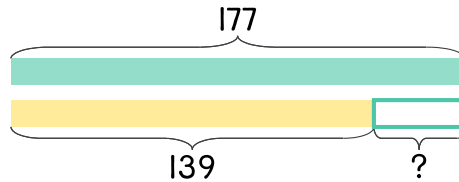


- 4 엄마의 키는 165cm이고 지우의 키는 138cm입니다. 엄마는 지우보다 몇 cm 더 큰가요?



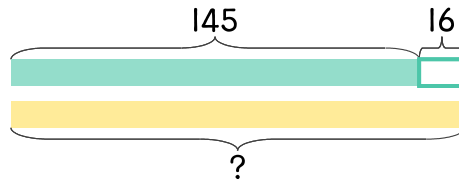
식 $165 - 138 = 27$ 답 27cm

- 5 아빠의 키는 177cm이고 수아의 키는 139cm입니다. 수아는 아빠보다 몇 cm 더 작은가요?



식 _____ 답 _____

- 6 윤주의 키는 145cm이고 언니는 윤주보다 16cm 더 큼니다. 언니의 키는 몇 cm인가요?



식 _____ 답 _____

