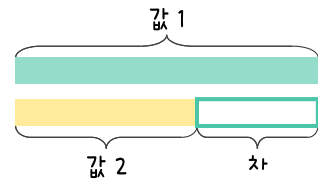
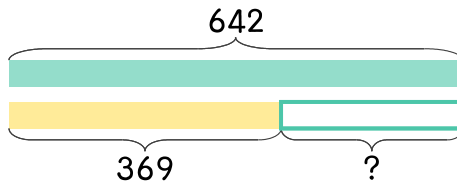


문제를 읽고 알맞은 덧셈식이나 뺄셈식을 세워 답을 구하세요.

두 수의 크기를 비교하여 해결해 보세요.



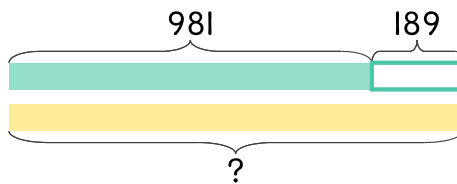
7 642와 369의 차는 얼마인가요?



식 \_\_\_\_\_

답 \_\_\_\_\_

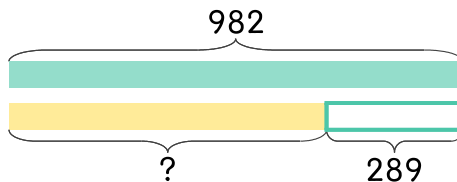
8 981보다 189 더 큰 수는 얼마인가요?



식 \_\_\_\_\_

답 \_\_\_\_\_

9 982보다 289 더 작은 수는 얼마인가요?



식 \_\_\_\_\_

답 \_\_\_\_\_

