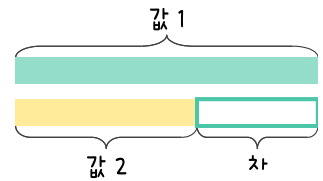
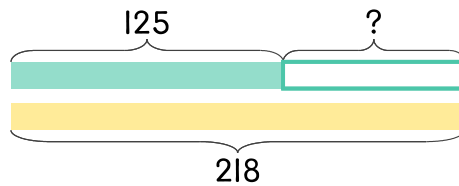


문제를 읽고 알맞은 덧셈식이나 뺄셈식을 세워 답을 구하세요.

두 수의 크기를 비교하여 해결해 보세요.



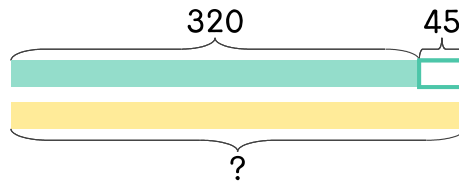
- 10 햄버거 가게에서 치즈버거를 125개와 불고기버거를 218개 팔았습니다. 불고기버거를 몇 개 더 많이 팔았나요?



식 \_\_\_\_\_

답 \_\_\_\_\_

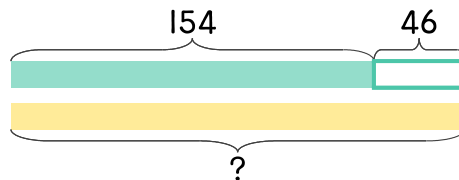
- 11 햄버거 가게에서 콜라를 320잔 팔고 오렌지주스를 콜라보다 45잔 더 많이 팔았습니다. 오렌지주스를 몇 잔 팔았나요?



식 \_\_\_\_\_

답 \_\_\_\_\_

- 12 아이스크림 가게에서 초코아이스크림을 154개 팔았는데 이것은 딸기아이스크림보다 46개 더 적게 판 것입니다. 딸기아이스크림은 몇 개 팔았나요?



식 \_\_\_\_\_

답 \_\_\_\_\_

