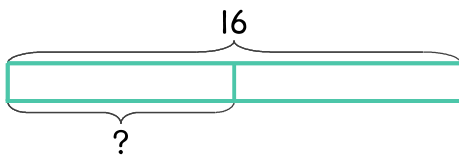


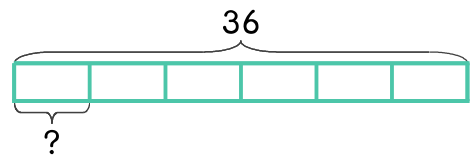
문제를 읽고 알맞은 식을 세워 답을 구하세요.

- 1 포도맛 젤리 16개를 2명이 똑같이 나누어 먹으려고 합니다. 한 사람이 몇 개씩 먹으면 되나요?



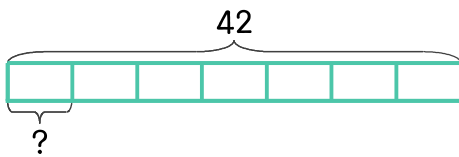
식 $16 \div 2 = 8$ 답 8개

- 2 과자 36개를 6일 동안 똑같은 개수로 나누어 먹으려고 합니다. 하루에 몇 개씩 먹으면 되나요?



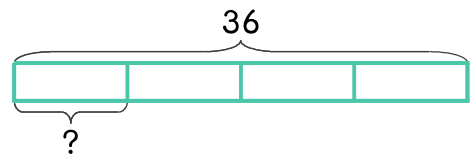
식 _____ 답 _____

- 3 꿀 42개를 봉지 7개에 똑같이 나누어 담으려고 합니다. 한 봉지에 몇 개씩 담으면 되나요?



식 _____ 답 _____

- 4 참외 36개를 상자 4개에 똑같이 나누어 담으려고 합니다. 한 상자에 몇 개씩 담으면 되나요?



식 _____ 답 _____

