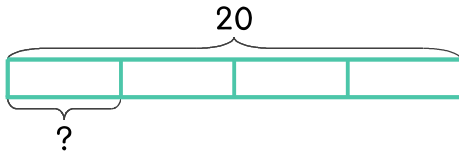


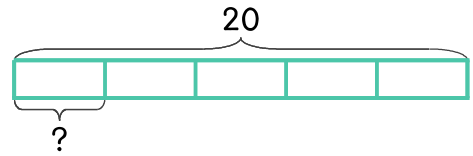
문제를 읽고 알맞은 식을 세워 답을 구하세요.

- 1 꿀 20개를 4명이 똑같이 나누어 먹으려고 합니다. 한 사람이 몇 개씩 먹으면 되나요?



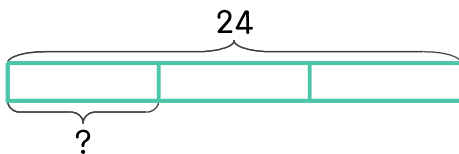
식 $20 \div 4 = 5$ 답 5개

- 2 오렌지 20개를 5일 동안 똑같은 개수로 나누어 먹으려고 합니다. 하루에 몇 개씩 먹으면 되나요?



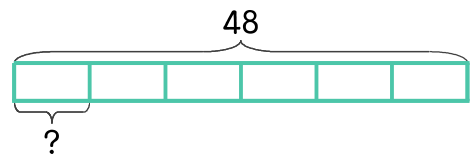
식 _____ 답 _____

- 3 진아는 사탕 24개를 언니, 동생과 셋이서 똑같이 나누어 먹으려고 합니다. 한 사람이 몇 개씩 먹으면 되나요?



식 _____ 답 _____

- 4 유진이는 과자 48개를 친구 5명과 함께 똑같이 나누어 먹으려고 합니다. 한 사람이 몇 개씩 먹으면 되나요?



식 _____ 답 _____

