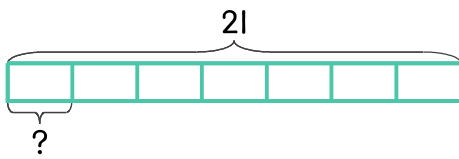


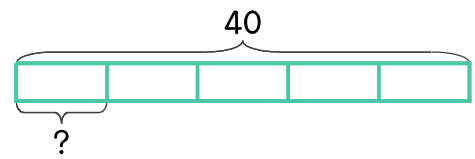
문제를 읽고 알맞은 식을 세워 답을 구하세요.

- 1 강아지 간식 21개를 7일 동안 똑같은 개수로 나눠 주려고 합니다. 하루에 몇 개씩 주면 되나요?



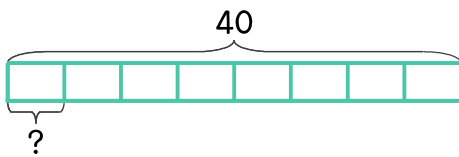
식 $21 \div 7 = 3$ 답 3개

- 2 보드게임을 하는데 카드 40장을 5명에게 똑같이 나누어 주려고 합니다. 한 사람에게 몇 장씩 주면 되나요?



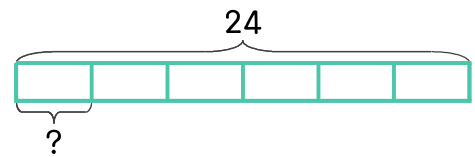
식 _____ 답 _____

- 3 색종이 40장을 8명에게 똑같이 나누어 주려고 합니다. 한 사람에게 몇 장씩 주면 되나요?



식 _____ 답 _____

- 4 은수네 반 학생 24명을 여섯 모둠으로 똑같이 나누려고 합니다. 한 모둠에 몇 명씩 묶으면 되나요?



식 _____ 답 _____

