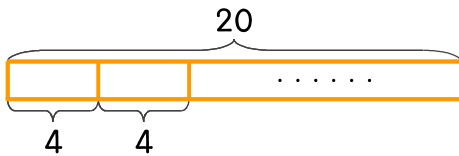


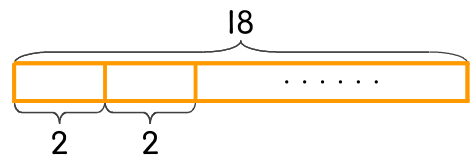
문제를 읽고 알맞은 식을 세워 답을 구하세요.

- 1 젤리 20개를 하루에 4개씩 먹으면 며칠 동안 먹을 수 있나요?



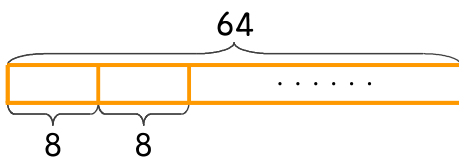
식 $20 \div 4 = 5$ 답 5일

- 2 초콜릿 18개를 친구들에게 나누어 주려고 합니다. 한 사람에게 2개씩 주면 몇 명에게 나누어 줄 수 있나요?



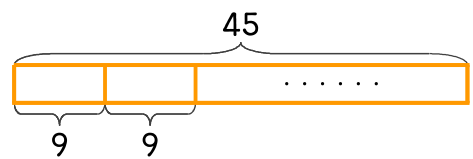
식 _____ 답 _____

- 3 관광객 64명이 있습니다. 자동차 1대에 8명씩 타려면 자동차가 몇 대 있어야 하나요?



식 _____ 답 _____

- 4 엘리베이터에 타려는 사람이 45명 있습니다. 한 번에 9명씩 타면 엘리베이터는 몇 번 운행해야 하나요?



식 _____ 답 _____

