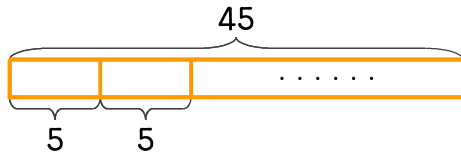


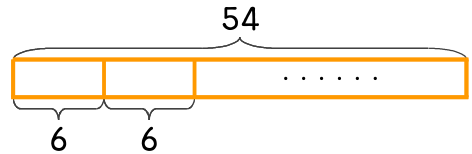
문제를 읽고 알맞은 식을 세워 답을 구하세요.

1 만두 45개를 하루에 5개씩 먹으면 며칠 동안 먹을 수 있나요?



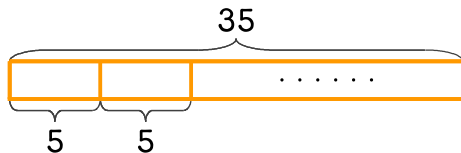
식 $45 \div 5 = 9$ 답 9일

2 풍선 54개를 불어서 한 묶음에 6개씩 묶으면 몇 묶음을 만들 수 있나요?



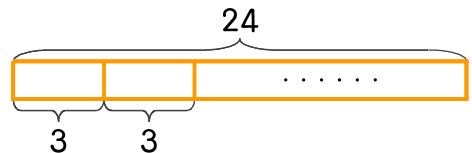
식 _____ 답 _____

3 꿀 35개를 한 봉지에 5개씩 담으려고 합니다. 몇 봉지를 만들 수 있나요?



식 _____ 답 _____

4 멜론 24개를 한 상자에 3개씩 담으려고 합니다. 몇 상자를 만들 수 있나요?



식 _____ 답 _____

