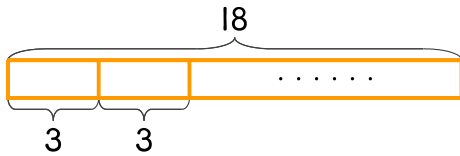


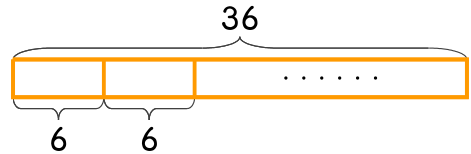
문제를 읽고 알맞은 식을 세워 답을 구하세요.

1 과자 18개가 있습니다. 한 명에게 3개씩 나누어 준다면 몇 명에게 나누어 줄 수 있나요?



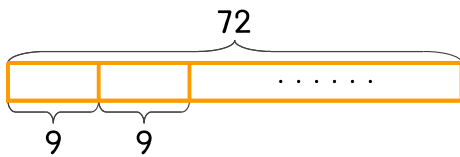
식  $18 \div 3 = 6$       답 **6명**

2 만화책 36권을 하루에 6권씩만 읽는다면 모두 읽는 데 며칠이 걸리나요?



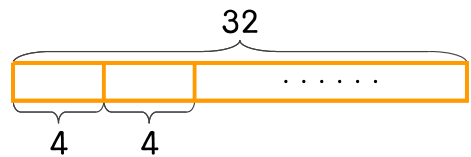
식 \_\_\_\_\_      답 \_\_\_\_\_

3 놀이기구를 한 번에 9명씩 탈 수 있습니다. 72명이 모두 한 번씩 타려면 놀이기구는 몇 번 운행해야 하나요?



식 \_\_\_\_\_      답 \_\_\_\_\_

4 드론으로 상자를 한 번에 4개씩 옮길 수 있습니다. 상자가 32개 있다면 드론을 몇 번 운행해야 하나요?



식 \_\_\_\_\_      답 \_\_\_\_\_

