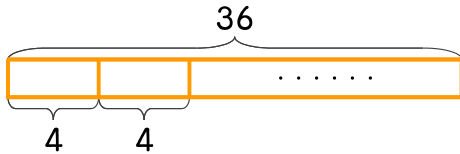


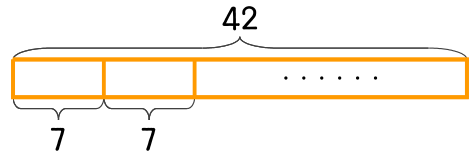
문제를 읽고 알맞은 식을 세워 답을 구하세요.

1 만화책 36권을 친구들에게 4권씩 나누어 준다면 몇 명에게 나누어 줄 수 있나요?



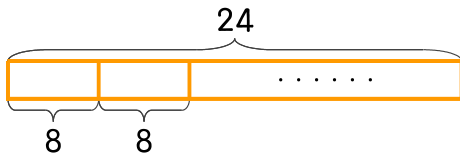
식 $36 \div 4 = 9$ 답 9명

2 꿀 42개를 하루에 7개씩 먹는다면 며칠 동안 먹을 수 있나요?



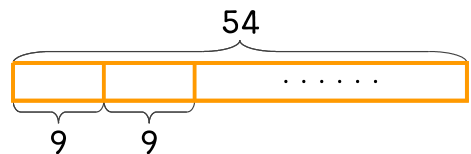
식 _____ 답 _____

3 긴 의자에 8명씩 앉을 수 있습니다. 24명이 모두 앉으려면 긴 의자가 몇 개 필요한가요?



식 _____ 답 _____

4 운동장에 있는 학생을 9명씩 모둠을 만들려고 합니다. 학생이 54명이면 모둠을 몇 개 만들 수 있나요?



식 _____ 답 _____

