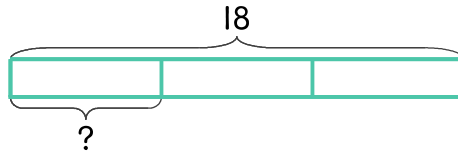


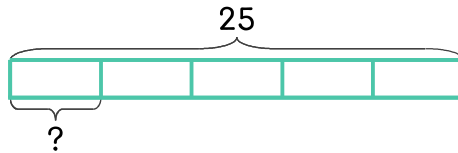
문제를 읽고 알맞은 식을 세워 답을 구하세요.

- 4 현우는 초콜릿 18개를 형, 동생과 셋이서 똑같이 나누어 먹으려고 합니다. 한 사람이 몇 개씩 먹으면 되나요?



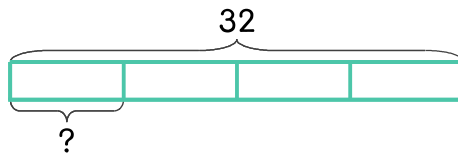
식 $18 \div 3 = 6$ 답 6개

- 5 딸기 25개를 5일 동안 똑같은 개수로 나누어 먹으려고 합니다. 하루에 몇 개씩 먹으면 되나요?



식 _____ 답 _____

- 6 젤리 32개를 4명이 똑같이 나누어 가지려고 합니다. 한 사람이 몇 개씩 가지면 되나요?



식 _____ 답 _____

