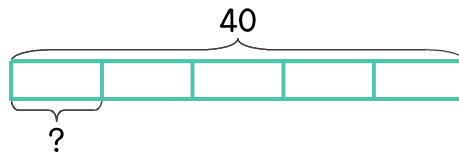


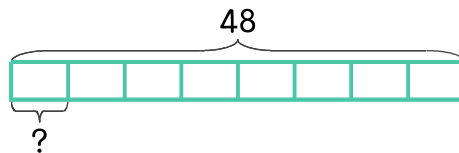
문제를 읽고 알맞은 식을 세워 답을 구하세요.

- 7 풍선 40개를 5명이 똑같이 나누어 가지려고 합니다. 한 사람이 몇 개씩 가지면 되나요?



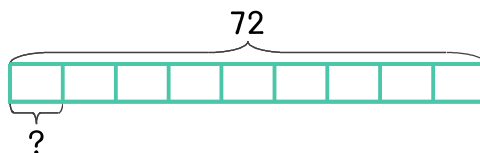
식 _____ 답 _____

- 8 풍선을 같은 개수씩 묶어서 풍선다발 8개를 만들려고 합니다. 풍선이 48개라면 한 다발에 몇 개씩 묶으면 되나요?



식 _____ 답 _____

- 9 사과 72개를 상자 9개에 똑같이 나누어 담으려고 합니다. 상자 한 개에 몇 개씩 담으면 되나요?



식 _____ 답 _____

