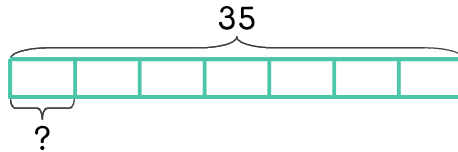


문제를 읽고 알맞은 식을 세워 답을 구하세요.

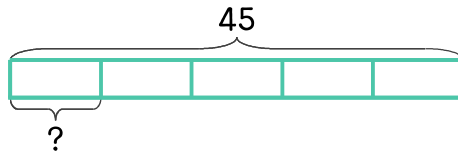
- 10 고양이 간식 35개를 7일 동안 똑같은 개수로 나눠 주려고 합니다. 하루에 몇 개씩 주면 되나요?



식

답

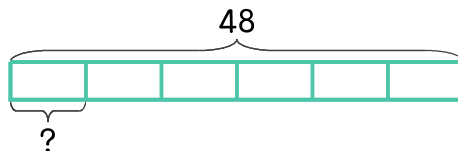
- 11 보드게임을 하는데 카드 45장을 5명에게 똑같이 나누어 주려고 합니다. 한 사람에게 몇 장씩 주면 되나요?



식

답

- 12 호두 48개를 6명이 똑같이 나누어 먹으려고 합니다. 한 사람이 몇 개씩 먹으면 되나요?



식

답

