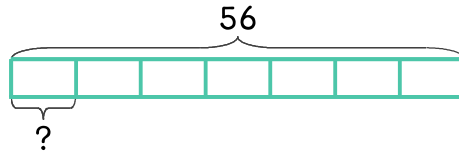


문제를 읽고 알맞은 식을 세워 답을 구하세요.

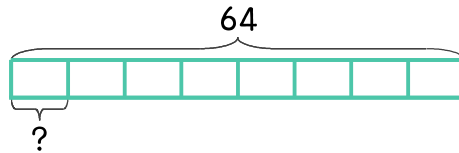
- 13 윤수는 도토리를 56개 주웠는데 다람쥐 7마리에게 똑같이 나누어 주려고 합니다. 다람쥐 한 마리에게 몇 개씩 주면 되나요?



식 _____

답 _____

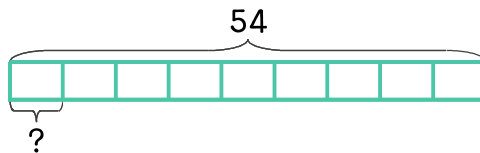
- 14 다람쥐가 도토리를 주워서 8개의 장소에 똑같이 나누어 숨겨 놓았습니다. 숨긴 도토리가 모두 64개라면 한 장소에 몇 개씩 숨겼나요?



식 _____

답 _____

- 15 다람쥐가 도토리 54개를 9일 동안 똑같이 나누어 먹으려고 합니다. 하루에 몇 개씩 먹으면 되나요?



식 _____

답 _____

