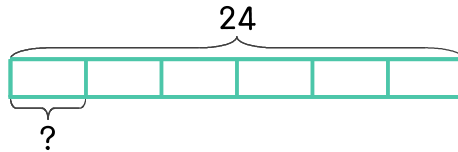


문제를 읽고 알맞은 식을 세워 답을 구하세요.

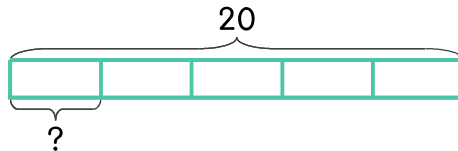
- 16 학생 24명을 여섯 팀으로 나누어 운동경기를 하려고 합니다. 몇 명씩 한 팀으로 묶으면 되나요?



식

답

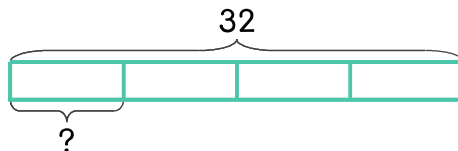
- 17 윤호네 반 학생을 다섯 모둠으로 똑같이 나누려고 합니다. 학생이 20명이면 한 모둠에 몇 명이 되나요?



식

답

- 18 학생 32명을 네 팀으로 나누어 피구를 하려고 합니다. 한 팀에 몇 명씩 묶으면 되나요?



식

답

