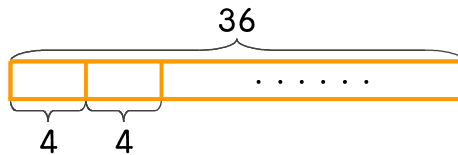


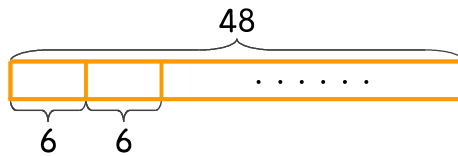
문제를 읽고 알맞은 식을 세워 답을 구하세요.

4 도넛 36개를 하루에 4개씩 먹는다면 며칠 동안 먹을 수 있나요?



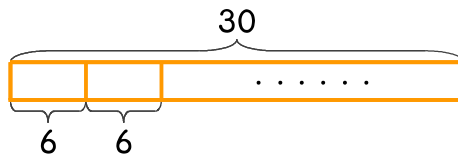
식 36 ÷ 4 = 9 답 9일

5 꽃 48송이를 한 다발에 6송이씩 묶는다면 꽃다발을 몇 개 만들 수 있나요?



식 _____ 답 _____

6 초코칩쿠키 30개를 한 상자에 6개씩 담으려고 합니다. 몇 상자를 만들 수 있나요?



식 _____ 답 _____

