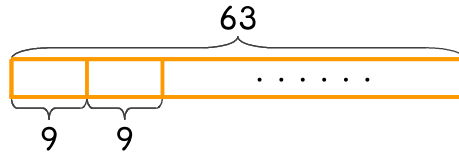


문제를 읽고 알맞은 식을 세워 답을 구하세요.

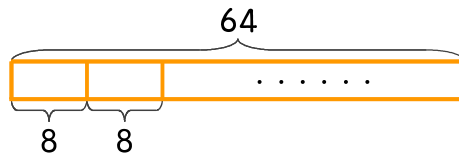
- 13 블록 9개를 가지고 의자를 한 개 만들 수 있습니다. 블록 63개가 있다면 만들 수 있는 의자는 몇 개인가요?



식

답

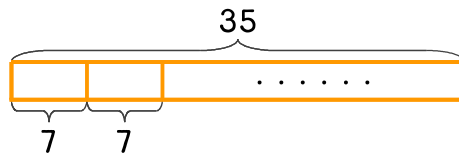
- 14 블록 64개를 한 상자에 8개씩 담고 있습니다. 몇 상자를 만들 수 있나요?



식

답

- 15 블록 35개가 있는데 7개씩 쌓아서 장애물을 만들고 있습니다. 장애물을 몇 개까지 만들 수 있나요?



식

답

