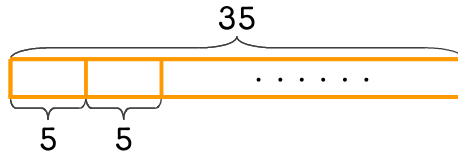


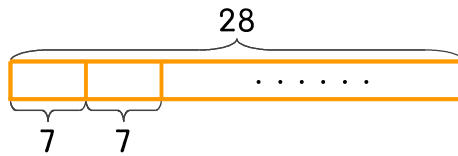
문제를 읽고 알맞은 식을 세워 답을 구하세요.

- 16 떡집에서 찹쌀떡 35개를 만들었습니다. 한 상자에 5개씩 담으면 모두 몇 상자를 만들 수 있나요?



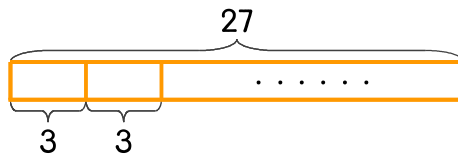
식 _____ 답 _____

- 17 찹쌀떡 28개를 하루에 7개씩 먹으면 며칠 동안 먹을 수 있나요?



식 _____ 답 _____

- 18 한 사람에게 찹쌀떡을 3개씩 나누어 주려고 합니다. 찹쌀떡이 27개 있다면 몇 명에게 줄 수 있나요?



식 _____ 답 _____

