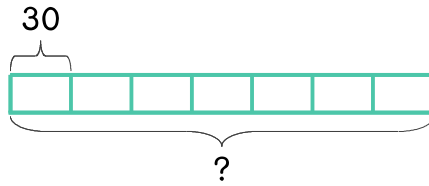


문제를 읽고 알맞은 식을 세워 답을 구하세요.

- 1 비타민 젤리가 한 상자에 30개씩 들어 있습니다. 7상자에 들어 있는 비타민 젤리는 모두 몇 개인가요?



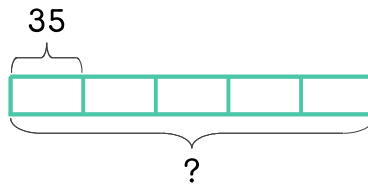
식

$$30 \times 7 = 210$$

답

210개

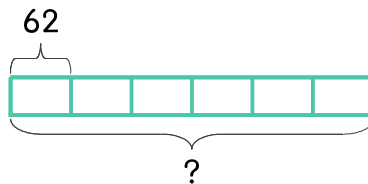
- 2 호두과자 5봉지를 샀습니다. 한 봉지에 호두과자가 35개씩 들어 있다면 5봉지에 들어 있는 호두과자는 모두 몇 개인가요?



식

답

- 3 빵집에서 도넛을 하루에 62개씩 만듭니다. 6일 동안 만드는 도넛은 모두 몇 개인가요?



식

답

