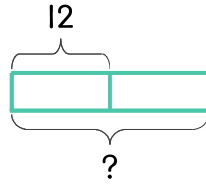


문제를 읽고 알맞은 식을 세워 답을 구하세요.

- 4 연필이 한 상자에 12자루씩 들어 있습니다. 서우가 연필을 2상자 샀다면 연필은 모두 몇 자루인가요?



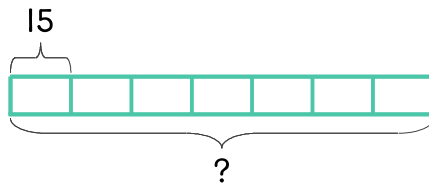
식

$$12 \times 2 = 24$$

답

24자루

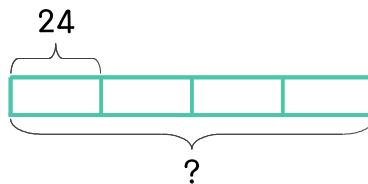
- 5 체육관에 줄넘기 7상자가 있는데 한 상자에 15개씩 들어 있습니다. 줄넘기는 모두 몇 개인가요?



식

답

- 6 물감이 한 상자에 24개씩 들어 있습니다. 도은이가 자료실에서 물감 4상자를 가져왔다면 물감은 모두 몇 개인가요?



식

답

