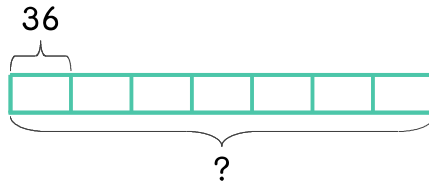


문제를 읽고 알맞은 식을 세워 답을 구하세요.

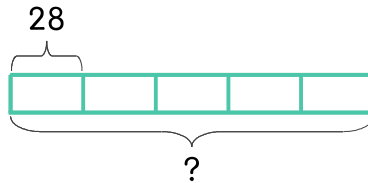
- 7 미나네 마을의 마을버스는 하루에 36번씩 운행합니다. 마을버스가 7일 동안 운행하는 횟수는 몇 번인가요?



식

답

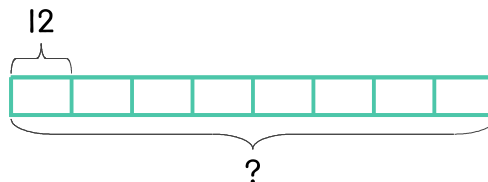
- 8 미나가 줄넘기를 1분에 28번씩 합니다. 5분 동안 줄넘기를 몇 번 할 수 있나요?



식

답

- 9 미나는 매일 운동장 달리기를 합니다. 8일 동안 매일 12바퀴씩 달렸다면 모두 몇 바퀴를 달렸나요?



식

답

