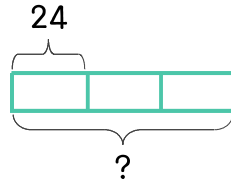


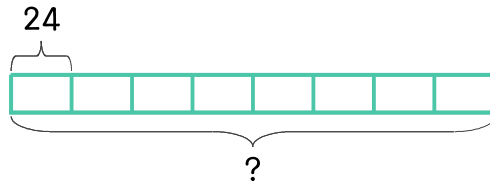
문제를 읽고 알맞은 식을 세워 답을 구하세요.

10 하루의 시간은 24시간입니다. 3일 동안은 몇 시간인가요?



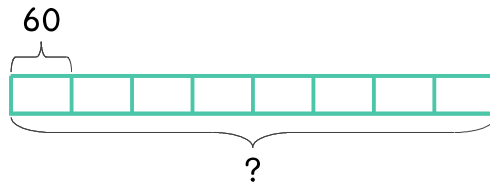
식 _____ 답 _____

11 하루의 시간은 24시간입니다. 8일 동안은 몇 시간인가요?



식 _____ 답 _____

12 1분은 60초입니다. 8분은 몇 초인가요?



식 _____ 답 _____

