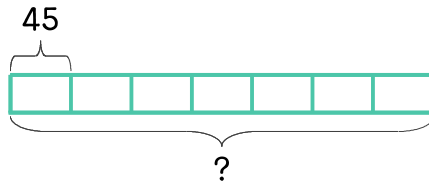


문제를 읽고 알맞은 식을 세워 답을 구하세요.

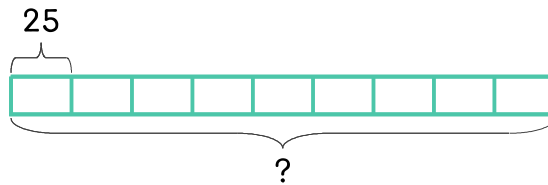
- 13 승객이 45명까지 탈 수 있는 버스가 7대 있습니다. 탈 수 있는 승객은 모두 몇 명인가요?



식 _____

답 _____

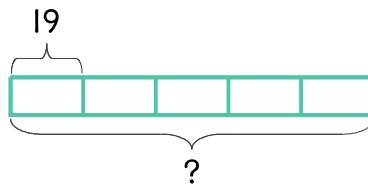
- 14 빅 패밀리 피자 한 판은 25조각으로 이루어져 있습니다. 빅 패밀리 피자 9판을 한 사람에게 한 조각씩 나눠 준다면 모두 몇 명에게 줄 수 있나요?



식 _____

답 _____

- 15 윤호네 학교의 3학년은 1반부터 5반까지 있고 각 반마다 학생 수가 19명으로 모두 같습니다. 3학년 학생은 모두 몇 명인가요?



식 _____

답 _____

