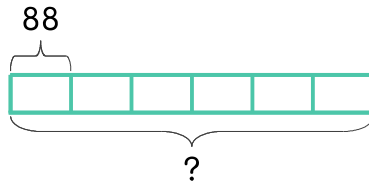


문제를 읽고 알맞은 식을 세워 답을 구하세요.

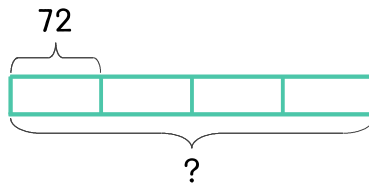
- 16 미술시간에 사용할 철사 6묶음이 있고 한 묶음의 길이가 88cm로 모두 같습니다. 6묶음의 철사를 모두 합하면 몇 cm인가요?



식 _____

답 _____

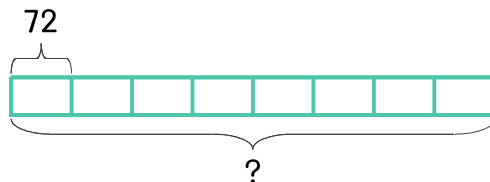
- 17 진수는 둘레의 길이가 72m인 놀이터 둘레를 4바퀴 달렸습니다. 모두 몇 m를 달렸나요?



식 _____

답 _____

- 18 아파트 한동에 72가구가 살고 있습니다. 1동부터 8동까지에는 모두 몇 가구가 살고 있나요?



식 _____

답 _____

