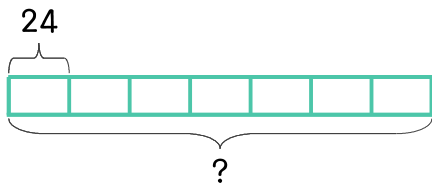


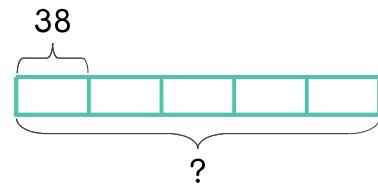
문제를 읽고 알맞은 식을 세워 답을 구하세요.

- 1 초콜릿이 한 상자에 25개씩 들어 있습니다. 7상자에 들어 있는 초콜릿은 모두 몇 개인가요?



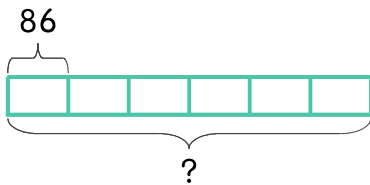
식 $25 \times 7 = 175$ 답 175개

- 2 젤리를 5봉지 샀습니다. 한 봉지에 젤리가 38개씩 들어 있다면 5봉지에 들어 있는 젤리는 모두 몇 개인가요?



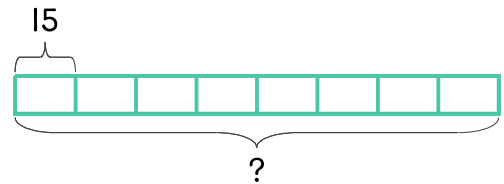
식 _____ 답 _____

- 3 빵집에서 식빵을 하루에 86개씩 만듭니다. 6일 동안 만드는 식빵은 모두 몇 개인가요?



식 _____ 답 _____

- 4 산에 올라가는 케이블카에 한 번에 15명까지 탈 수 있습니다. 케이블카가 하루에 8번 올라간다면 하루 동안 케이블카를 탈 수 있는 사람은 몇 명인가요?



식 _____ 답 _____

