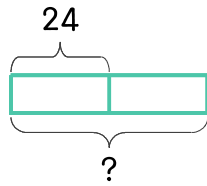


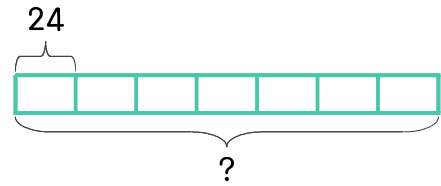
문제를 읽고 알맞은 식을 세워 답을 구하세요.

1 하루는 24시간입니다. 2일은 몇 시간 인가요?



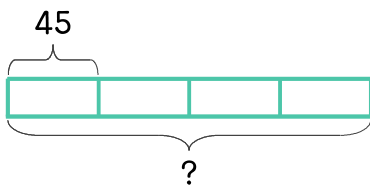
식 $24 \times 2 = 48$ 답 48시간

2 하루는 24시간입니다. 일주일(7일)은 몇 시간 인가요?



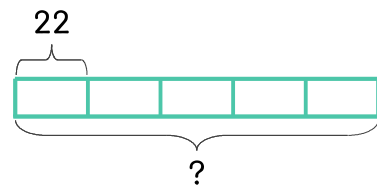
식 _____ 답 _____

3 승객이 45명까지 탈 수 있는 버스가 4대 있다면 탈 수 있는 승객 수는 모두 몇 명 인가요?



식 _____ 답 _____

4 민서네 학교 3학년은 한 반에 22명씩이고 1반부터 5반까지 있습니다. 3학년 학생은 모두 몇 명인가요?



식 _____ 답 _____

