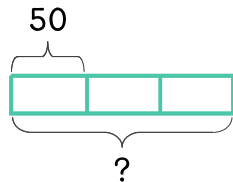
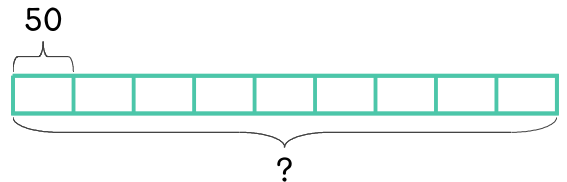


문제를 읽고 알맞은 식을 세워 답을 구하세요.

1 50원짜리 동전 3개는 모두 얼마인가요?



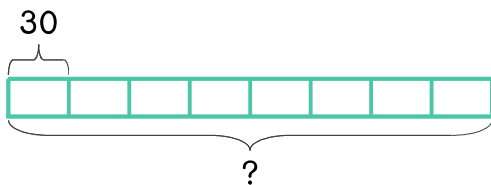
2 50원짜리 동전 9개는 모두 얼마인가요?



식  $50 \times 3 = 150$     답 150원

식 \_\_\_\_\_    답 \_\_\_\_\_

3 달걀이 한 판에 30개씩 들어 있습니다. 달걀 8판에 들어 있는 달걀은 모두 몇 개인가요?



4 양계장에 달걀이 250개 있습니다. 한 판에 30개씩 담아서 팔면 몇 판까지 팔 수 있나요?

식 \_\_\_\_\_    답 \_\_\_\_\_

답 \_\_\_\_\_

