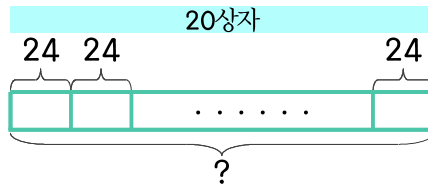


문제를 읽고 알맞은 식을 세워 답을 구하세요.

- 1 과자가 한 상자에 24개씩 들어 있습니다. 과자 20상자를 사면 모두 몇 개인가요?



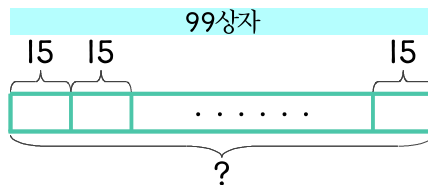
식

$$24 \times 20 = 480$$

답

480개

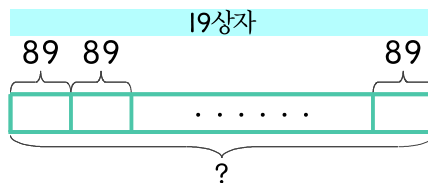
- 2 떡이 한 상자에 15개씩 들어 있습니다. 떡 99상자를 사면 모두 몇 개인가요?



식

답

- 3 초콜릿이 19상자 있는데 한 상자에 89개씩 들어 있습니다. 초콜릿은 모두 몇 개인가요?



식

답

