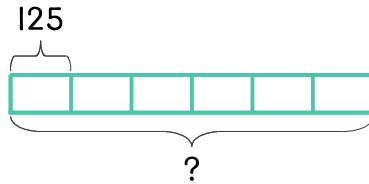


문제를 읽고 알맞은 식을 세워 답을 구하세요.

- 4 3학년 각 반에 풍선을 125개씩 주었습니다. 3학년은 1반부터 6반까지 있습니다. 3학년 반에 준 풍선을 모두 합하면 몇 개인가요?



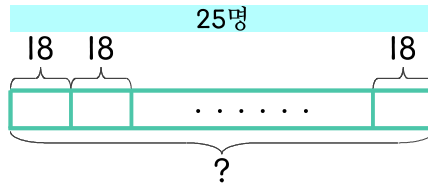
식

$$125 \times 6 = 750$$

답

750개

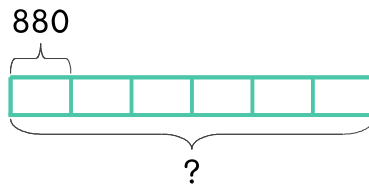
- 5 민수네 반의 학생 수는 25명이고 한 사람에게 색연필을 18자루씩 주었습니다. 나누어 준 색연필은 모두 몇 자루인가요?



식

답

- 6 민수는 친구 6명에게 아이스크림을 하나씩 사 주었습니다. 아이스크림이 880원이면 민수는 얼마를 사용했나요?



식

답

