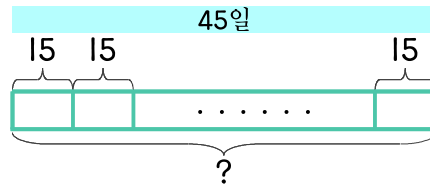


문제를 읽고 알맞은 식을 세워 답을 구하세요.

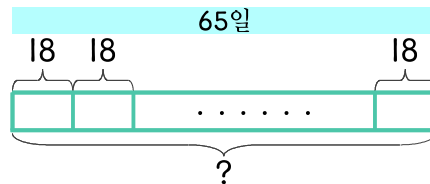
- 7 수학 문제를 매일 15문제씩 45일 동안 풀려고 합니다. 모두 몇 문제를 풀게 되나요?



식

답

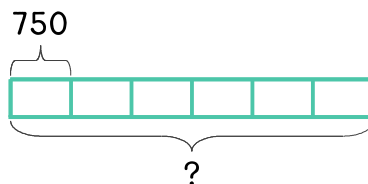
- 8 65일 동안 매일 수학 문제를 풀었습니다. 하루에 18문제씩 풀었다면 모두 몇 문제를 풀었나요?



식

답

- 9 수정이는 월요일부터 토요일까지 심부름을 하고 매일 용돈을 750원씩 받았습니다. 수정이가 받은 용돈은 모두 얼마인가요?



식

답

