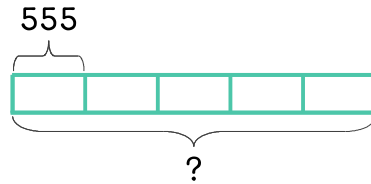


문제를 읽고 알맞은 식을 세워 답을 구하세요.

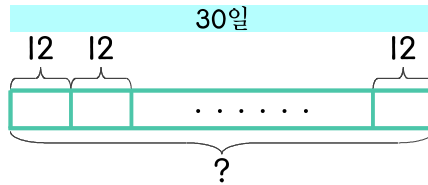
- 10 식당에서 달걀을 하루에 55개씩 사용합니다. 5일 동안 사용하는 달걀은 모두 몇 개인가요?



식 _____

답 _____

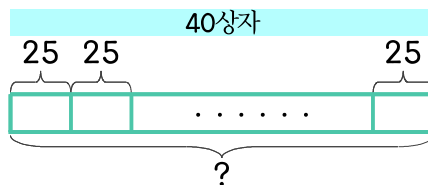
- 11 민수네 가족이 하루에 달걀을 12개씩 먹습니다. 30일 동안 먹는 달걀은 모두 몇 개인가요?



식 _____

답 _____

- 12 달걀이 한 상자에 25개씩 들어 있습니다. 달걀 40상자에 들어 있는 달걀은 모두 몇 개인가요?



식 _____

답 _____

