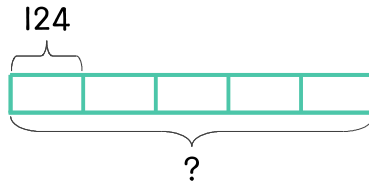


문제를 읽고 알맞은 식을 세워 답을 구하세요.

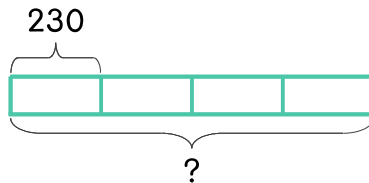
- 13 124명이 한 번에 들어갈 수 있는 극장이 있습니다. 이 극장에서 영화를 하루에 다섯 번 상영한다면 하루에 몇 명까지 영화를 볼 수 있나요?



식 _____

답 _____

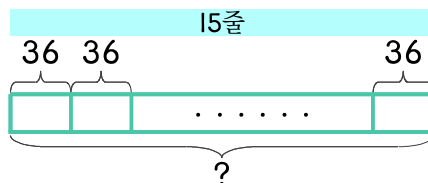
- 14 음악 공연장에 230명까지 들어갈 수 있습니다. 주말 동안 공연이 모두 네 번 있다면 주말 동안 음악회를 관람할 수 있는 사람은 몇 명인가요?



식 _____

답 _____

- 15 공연장의 좌석은 한 줄에 36명씩 앉을 수 있고 15줄까지 있습니다. 앉을 수 있는 사람은 모두 몇 명인가요?



식 _____

답 _____

