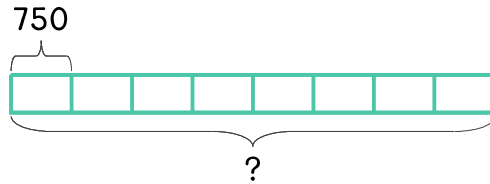


문제를 읽고 알맞은 식을 세워 답을 구하세요.

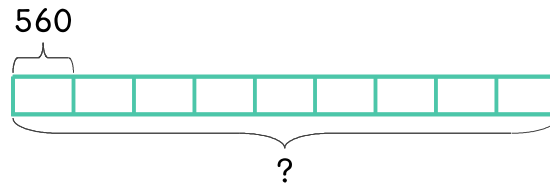
- 22 승민이는 한 자루에 750원인 색연필을 8자루 사고 싶습니다. 승민이는 얼마가 필요한가요?



식

답

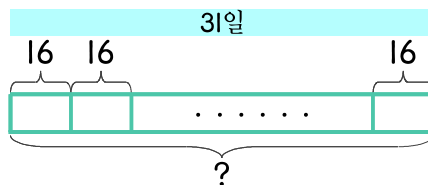
- 23 지효는 560원짜리 지우개를 여러 개 사려고 합니다. 5천원이 있다면 지우개 9개를 살 수 있을까요? 살 수 없을까요?



식

답

- 24 8월 1일부터 31일까지 한 달 동안 매일 땅콩을 16개씩 먹었습니다. 8월 한 달 동안 먹은 땅콩은 몇 개인가요?



식

답

