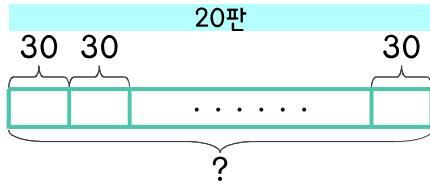
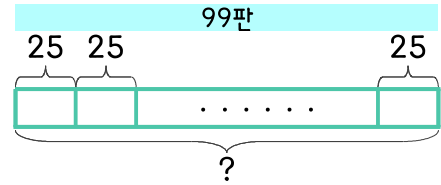


문제를 읽고 알맞은 식을 세워 답을 구하세요.

1 달걀이 한 판에 30개씩 들어 있습니다. 달걀 20판을 사면 모두 몇 개인가요?



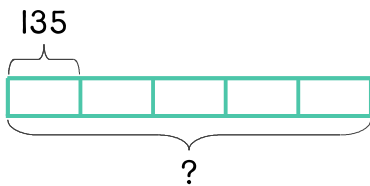
2 달걀이 한 상자에 25개씩 들어 있습니다. 달걀 99판을 사면 모두 몇 개인가요?



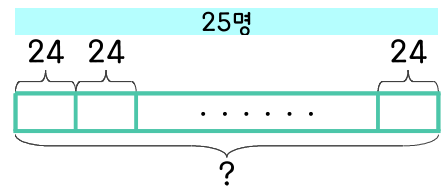
식 $30 \times 20 = 600$ 답 600개

식 _____ 답 _____

3 3학년 각 반에 자석을 135개씩 주었습니다. 3학년은 1반부터 5반까지 있습니다. 3학년 모든 반에 준 자석을 합하면 몇 개인가요?



4 지수네 반의 학생 수는 25명이고 한 사람당 색종이를 24장씩 주었습니다. 나누어 준 색종이는 모두 몇 장인가요?



식 _____ 답 _____

식 _____ 답 _____

