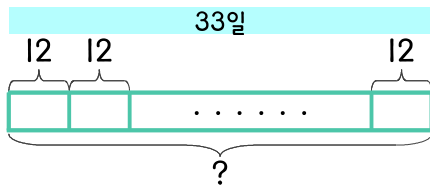


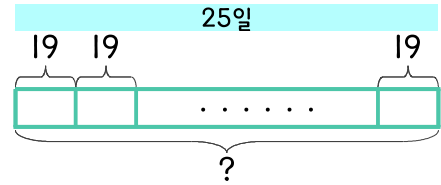
문제를 읽고 알맞은 식을 세워 답을 구하세요.

1 수학 문제를 하루에 12문제씩 33일 동안 풀려고 합니다. 모두 몇 문제를 풀게 되나요?



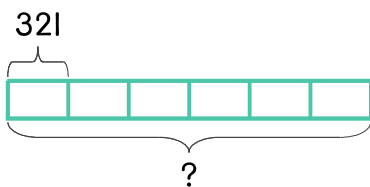
식  $12 \times 33 = 396$  답 396문제

2 25일 동안 매일 수학 문제를 19문제씩 풀었습니다. 모두 몇 문제를 풀었나요?



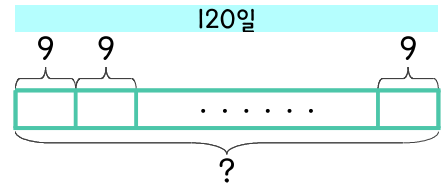
식 \_\_\_\_\_ 답 \_\_\_\_\_

3 빵집에서 달걀을 하루에 321개씩 사용 합니다. 6일 동안 사용하는 달걀은 모두 몇 개인가요?



식 \_\_\_\_\_ 답 \_\_\_\_\_

4 희수네 가족이 매일 토마토를 9개씩 먹습니다. 120일 동안 먹는 토마토는 모두 몇 개인가요?



식 \_\_\_\_\_ 답 \_\_\_\_\_

