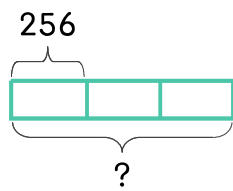


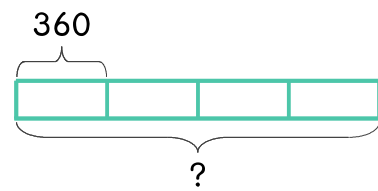
문제를 읽고 알맞은 식을 세워 답을 구하세요.

- 1 극장에 한 번에 256명까지 들어갈 수 있습니다. 이 극장에서 영화를 하루에 3번 상영한다면 하루에 몇 명까지 영화를 볼 수 있나요?



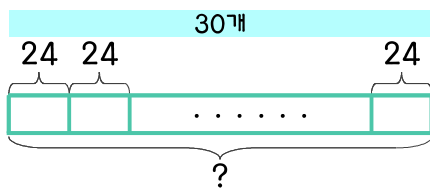
식 $256 \times 3 = 768$ 답 768명

- 2 음악 공연장에 한 번에 360명까지 들어갈 수 있습니다. 토요일과 일요일에 각각 공연이 2번씩 있다면 주말 동안 음악회를 관람할 수 있는 사람은 몇 명인가요?



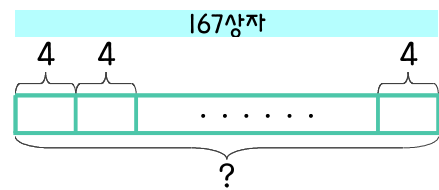
식 _____ 답 _____

- 3 꽃감이 24개씩 들어 있는 상자를 오늘 하루 동안 30개 팔았습니다. 오늘 판 꽃감은 몇 개인가요?



식 _____ 답 _____

- 4 파인애플을 한 상자에 4개씩 담아서 팔고 있습니다. 파인애플 167상자를 팔았다면 모두 몇 개를 팔았나요?



식 _____ 답 _____

