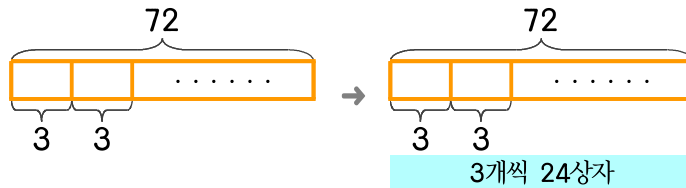


문제를 읽고 알맞은 식을 세워 답을 구하세요.

- 1 과수원에서 토마토 72개를 한 상자에 3개씩 넣고 있습니다. 몇 상자를 만들 수 있나요?



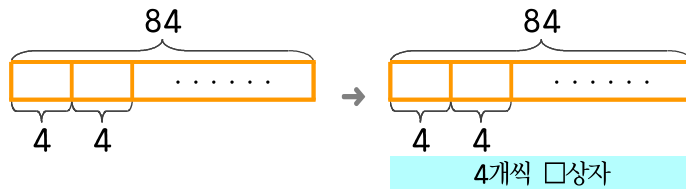
식

$$72 \div 3 = 24$$

답

24상자

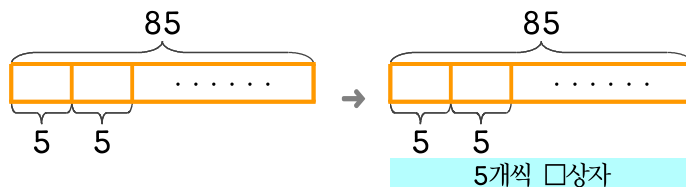
- 2 과수원에서 복숭아 84개를 한 상자에 4개씩 넣고 있습니다. 몇 상자를 만들 수 있나요?



식

답

- 3 과수원에서 키위 85개를 한 상자에 5개씩 넣고 있습니다. 몇 상자를 만들 수 있나요?



식

답



정답