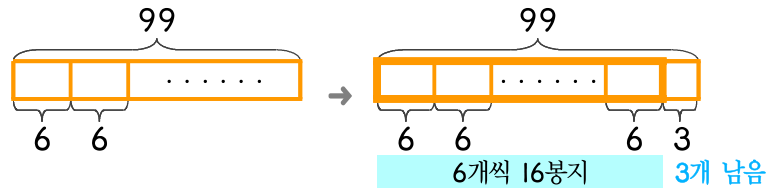


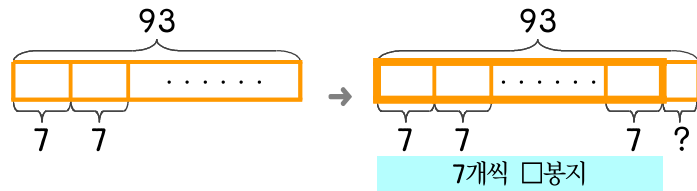
문제를 읽고 알맞은 식을 세워 답을 구하세요.

- 4 농장에서 오이 99개를 한 봉지에 6개씩 넣고 있습니다. 봉지에 넣고 남는 것은 몇 개인가요?



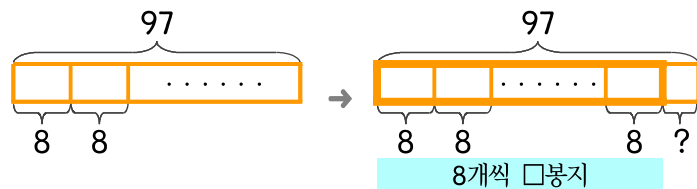
식  $99 \div 6 = 16 \dots 3$  답 3개

- 5 농장에서 당근 93개를 한 봉지에 7개씩 넣고 있습니다. 봉지에 넣고 남는 것은 몇 개인가요?



식 \_\_\_\_\_ 답 \_\_\_\_\_

- 6 농장에서 가지 97개를 한 봉지에 8개씩 넣고 있습니다. 봉지에 넣고 남는 것은 몇 개인가요?



식 \_\_\_\_\_ 답 \_\_\_\_\_

