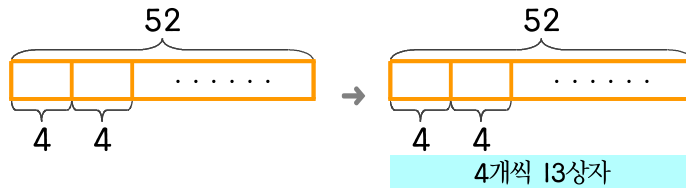


문제를 읽고 알맞은 식을 세워 답을 구하세요.

- 7 만두 가게에서 왕만두를 한 상자에 4개씩 담아서 팔려고 합니다. 왕만두가 52개이면 몇 상자를 만들 수 있나요?



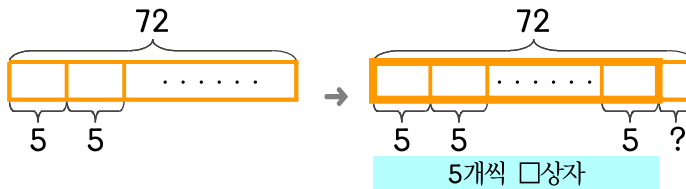
식

$$52 \div 4 = 13$$

답

13상자

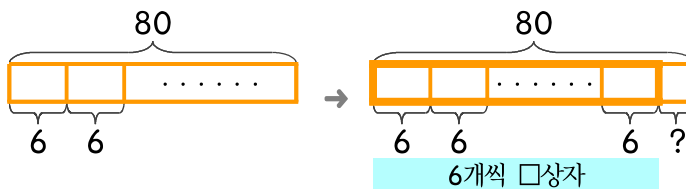
- 8 만두 가게에서 고기만두를 한 상자에 5개씩 담아서 팔려고 합니다. 고기만두가 72개이면 상자에 담고 남은 것은 몇 개인가요?



식

답

- 9 만두 가게에서 김치만두를 한 상자에 6개씩 담아서 팔려고 합니다. 김치만두가 80개이면 만들 수 있는 상자 수와 남은 만두 개수를 구하세요.



식

답



정답