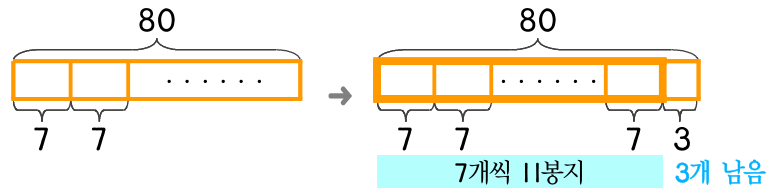


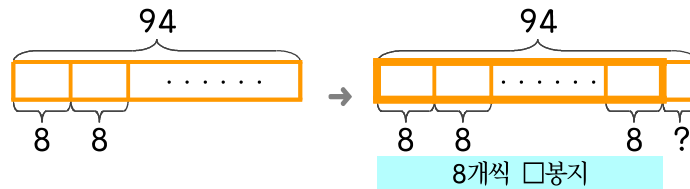
문제를 읽고 알맞은 식을 세워 답을 구하세요.

- 10 붕어빵 80개를 한 봉지에 7개씩 담아서 나눠 주려고 합니다. 남는 것이 없게 모두 나눠 주려면 몇 개를 더 만들면 되나요? (7개보다 작은 수로 답하세요.)



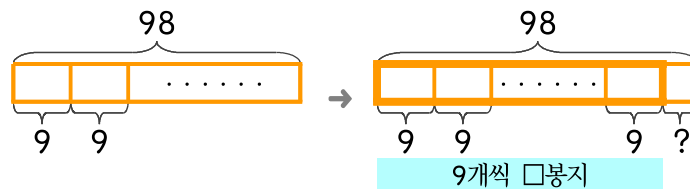
식 $80 \div 7 = 11 \cdots 3$ 답 4개

- 11 붕어빵 94개를 한 봉지에 8개씩 담아서 나눠 주려고 합니다. 남는 것이 없게 모두 나눠 주려면 몇 개를 더 만들면 되나요? (8개보다 작은 수로 답하세요.)



식 _____ 답 _____

- 12 붕어빵 98개를 한 봉지에 9개씩 담아서 나눠 주려고 합니다. 남는 것이 없게 모두 나눠 주려면 몇 개를 더 만들면 되나요? (9개보다 작은 수로 답하세요.)



식 _____ 답 _____

