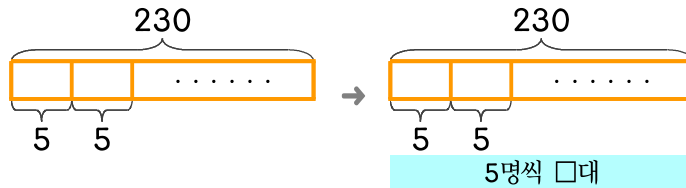


문제를 읽고 알맞은 식을 세워 답을 구하세요.

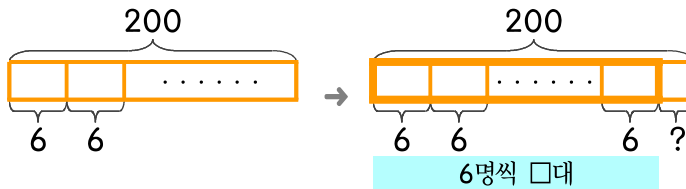
- 13 한 대에 5명씩 탈 수 있는 자전거가 있습니다. 230명이 모두 타려면 자전거는 몇 대 필요한가요?



식

답

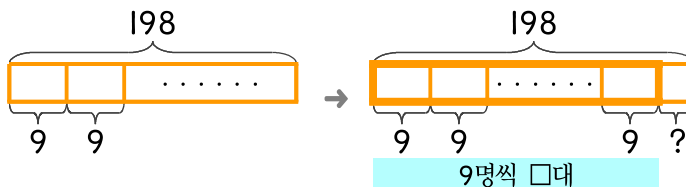
- 14 한 대에 6명씩 탈 수 있는 자전거가 있습니다. 200명이 모두 타려면 자전거는 몇 대 필요한가요?



식

답

- 15 한 대에 9명씩 탈 수 있는 자동차가 있습니다. 198명이 모두 타려면 자동차는 몇 대 필요한가요?



식

답

