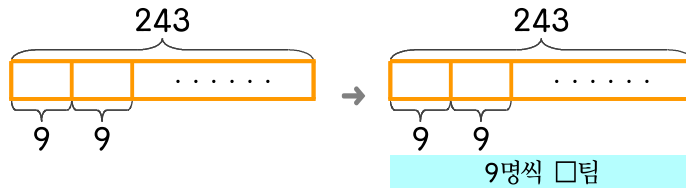


문제를 읽고 알맞은 식을 세워 답을 구하세요.

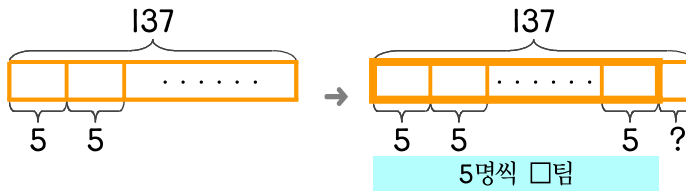
- 16 운동장에 243명이 있습니다. 9명씩 단체줄넘기팀을 만든다면 모두 몇 팀을 만들 수 있나요?



식

답

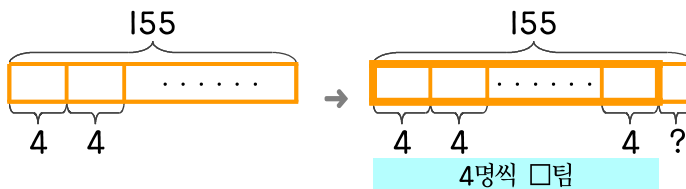
- 17 137명을 요리 실습을 위해 5명씩 팀을 만든다면 팀이 되지 못하고 남는 학생은 몇 명인가요?



식

답

- 18 과학실험을 하려는 학생이 155명 있습니다. 4명씩 팀을 만들면 팀이 되지 못하고 남는 학생은 몇 명인가요?



식

답

