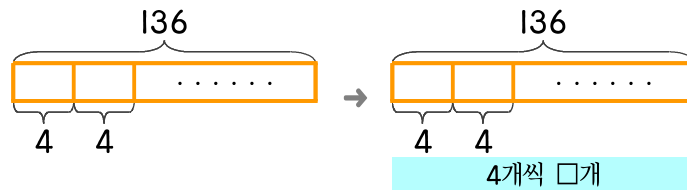


문제를 읽고 알맞은 식을 세워 답을 구하세요.

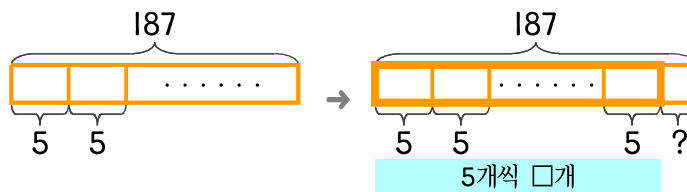
- 19 빵집에서 식빵 한 개를 만드는 데 달걀을 4개씩 사용합니다. 달걀 136개로 만들 수 있는 식빵은 몇 개인가요?



식

답

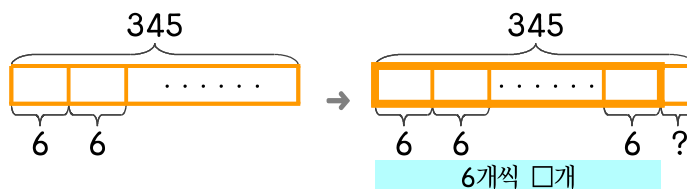
- 20 빵집에서 케이크 한 개를 만드는 데 달걀을 5개씩 사용합니다. 달걀이 187개 있다면 케이크를 만들고 남은 달걀은 몇 개인가요?



식

답

- 21 빵집에서 카스텔라 한 개를 만드는 데 달걀을 6개씩 사용합니다. 달걀이 345개 있다면 만들 수 있는 카스텔라 수와 남은 달걀 수를 구하세요.



식

답

