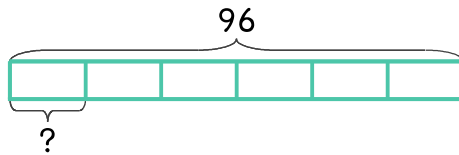


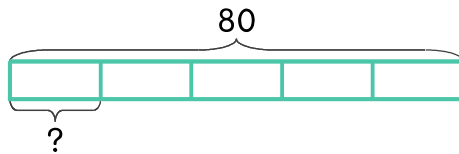
문제를 읽고 알맞은 식을 세워 답을 구하세요.

- 4 꿀 96개를 6상자에 똑같이 나누어 담으려면 한 상자에 몇 개씩 담으면 되나요?



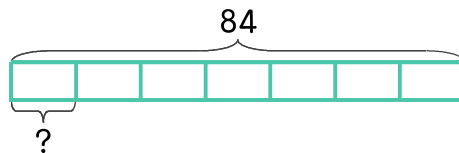
식  $96 \div 6 = 16$  답 16개

- 5 키위 80개를 5상자에 똑같이 나누어 담으려면 한 상자에 몇 개씩 담으면 되나요?



식 \_\_\_\_\_ 답 \_\_\_\_\_

- 6 바나나 84개를 7상자에 똑같이 나누어 담으려면 한 상자에 몇 개씩 담으면 되나요?



식 \_\_\_\_\_ 답 \_\_\_\_\_

